

Základná škola, Trebišovská 10, Košice

vyhlasuje celoročnú školskú súťaž

GEO v malíčku

2. kolo – otázky:

1. Tak ako vždy, začiatok bude patriť Košiciam. Spoznáš tieto kultúrne pamiatky?



a)

Názov za 1 bod



b)

Názov za 1 bod Po kom je pomenovaná? 1 bod



c)

Názov za 1 bod Aká povest' sa viaže k tejto stavbe? 1 bod



d) **Názov za 1 bod**



e) **Názov za 1 bod**



f) **Názov za 1 bod**

2. V tejto celej otázke sa budeme venovať štátu, ktorý s našou republikou susedí na juhozápade. Správne, je to Rakúsko.

- a) Ktoré dve farby sa nachádzajú na vlajke štátu? **1 bod**
- b) Administratívne sa člení na 9 spolkových krajín. V ktorej zo spolkových krajín sa nachádza najvyšší vrch Rakúska, ako sa volá a akú má nadmorskú výšku? Uved' aj hlavné mesto spolkovej krajiny. **4 body**
- c) Ktoej spolkovej krajiny je Klagenfurt štatutárnym mestom? **1 bod** Aký prívlastok má táto spolková krajina a prečo? **2 body**
- d) V roku 1991 sa našlo zamrznuté mumifikované telo z doby kamennej. **Kde konkrétne sa našlo a aké dostalo meno? 2 body** Malo to telo pri sebe meденú

sekeru? **1 bod**



Pamätník nálezu

e) Ako sa nazýva letné sídlo Habsburgovcov, dnes zaradené medzi pamiatky UNESCO? **1 bod**

f) Historické pamiatky uprostred prírody, majestátne vinice a panorámy malebných mestečiek sa najlepšie spoznávajú plavbou po Dunaji, ktorý preteká niekoľko kilometrovým




územím.

Kde konkrétne sme (aj názov spolkovej krajiny)? **2 body**


Kde konkrétne sme (aj

g) Kde sa nachádza a kadiaľ vedie „Muštová cesta“? **1 bod**



3. Kto to bol?

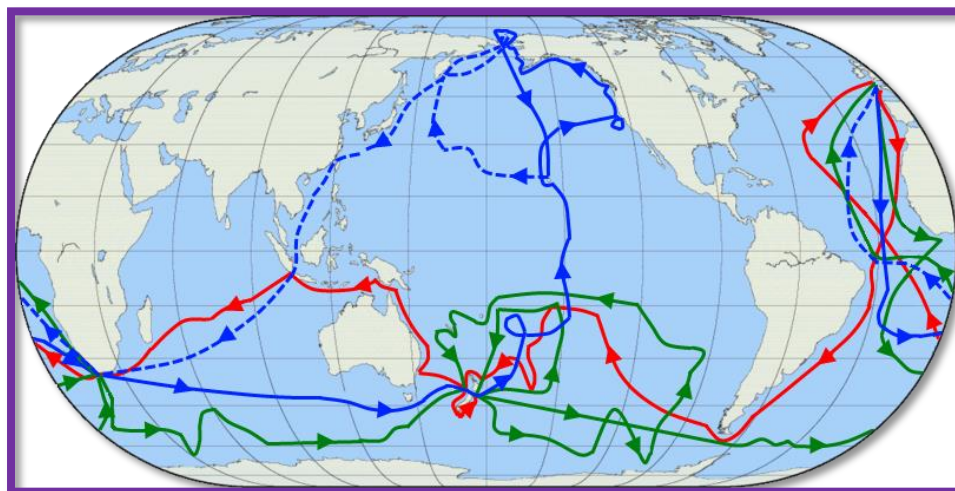
a) Bol som prvý Európan, ktorý spoznával východnú Áziu? **1 bod**



V ktorom dnešnom štáte sa narodil a aj zomrel? **1 bod**

Okolo ktorých polostrovov v Ázii putoval (je ich viac- stačia 2)? **2 body**

b) Vykonal som tri námorné cesty okolo sveta- pozri na mapu:



Kto som, kde som sa narodil a kde som zomrel ? **3 body**

c) Bol som španielsky objaviteľ, guvernér a dobyvateľ. Najviac som sa preslávil svojou cestou cez Panamskú šiju k Tichému oceánu. **Kto som ? 2 body za celé meno**

4. Ktoré letecké spoločnosti sa v minulom roku 2017 umiestnili na prvých troch priečkach? **3 body**



Ktorému štátu patrí táto letecká spoločnosť a na ktorom mieste sa v minulom roku umiestnila? **2 body**

Z ktorého kontinentu sú tieto spoločnosti? **1 bod**

Je medzi prvou desiatkou aj spoločnosť z Európy? Ak áno, ktorá? **1 bod**

5. Z ktorého štátu si môžete doniesť tento suvenír pod názvom diablovo alebo modré oko?



1 bod



a takúto pochúťku? **1 bod**

To je na 2. kolo všetko.



Ak nevynecháte žiadnu časť úlohy, môžete získať spolu až **40 bodov**. A jednotku v žiackej knižke. Chceš?

Kto chce byť lepší, vyrieši všetko rýchlo a získa bonus! Ak počas trvania súťaže získa viac bonusových bodov, na konci roku môže dostať knihu alebo vecnú cenu podľa vlastného výberu.

Termíny:

Do 8. októbra 2018 + **10 bodov**

Do 13. októbra 2018 + **5 bodov**

Posledný termín: 26. október 2018

KOMU?

Osobne p. učiteľke Majorošovej alebo poslať riešenie: alena17maj@gmail.com

A pozor!! Odoslaný mail bez mena a triedy bude neplatný!!!