

Meno: Trieda:

1. Správne pomenuj. – 2body



a



b



c



d



e



f



g



h



i



j



k



l



m




n



o



p



s



t

2. Vyber správnu možnosť. - 1bod

a



Turecko
Turkménsko
Tunisko

b



Poľsko
Monako
Portugalsko

c



Arménsko
Azerbajdžan
India

d



Srbsko
Slovinsko
Chorvátsko

e



Honduras
Haity
Guatemala

f



Guinea
Guinea- Bissau
Gabon

g



Grécko
Rumunsko
Cyprus

h



Estónsko
Fínsko
Lotyšsko

i



Rusko
Malajzia
Filipíny

j



Kazachstan
Kirgizsko
Azerbajdžan

k



Irak
Irán
Afganistan

l



Jamajka
Honduras
Nikaragua

m



Kamerun
Juhoafrická republika
Keňa

n



Tunisko
Tadžikistan
Mongolsko

o



Severné Macedónsko
Severná Kórea
Sierra Leone

3. Správne zarad' názvy štátov pod vlajky. Každé za 2 body.

Pozor!! Dve sú navyše, tie dokresli a pomenuj do dvoch prázdnych obdĺžnikov.




a



b



c



d



e



f



g



h



l



j



k



l



M



n



o



p

Maďarsko, Nový Zéland, Rusko, Libanon, Turkménsko, Mongolsko, Nepál, Argentína, Poľsko, Švajčiarsko, Saudská Arábia, Lichtenštajnsko, Katar, Srí Lanka, Rakúsko, Ukrajina.

4. Aj Európska únia má svoju vlajku, aj keď to je zoskupenie štátov. Ak ju správne nakreslíš, máš + **5bodov**.



Správne odpovede

1. Správne pomenuj. – 2body



Slovensko



Spojené kráľ. Veľkej Británie



Kanada



Aruba



Čína



Dánsko



USA



Izrael



Japonsko



Nemecko



Barbados



Thajsko



Portugalsko



Švédsko



Vietnam



Taliansko



Slovinsko



Honkong

2. Vyber správnu možnosť. 2body



Turecko

Turkménsko
Tunisko



Poľsko

Monako
Portugalsko



Arménsko
Azerbajdžan
India



Srbsko
Slovinsko
Chorvátsko



Honduras
Haity
Guatemala



Guinea
Guinea- Bissau
Gabon



Grécko
Rumunsko
Cyprus



Estónsko
Fínsko
Lotyšsko



Rusko
Malajzia
Filipíny



Kazachstan
Turkménsko
Azerbajdžan



Irak
Irán
Afganistan



Jamajka
Honduras
Nikaragua



Kamerun
Juhoafrická republika
Keňa



Tunisko
Tadžikistan
Mongolsko



Severné Macedónsko
Severná Kórea
Sierra Leone

3. Správne zaraď názvy štátov pod vlajky. Každé za 3 body.

Pozor!! Dve sú navyše, tie dokresli a pomenuj do dvoch prázdnych obdĺžnikov.




Katar



Nepál



Srí Lanka



Švajčiarsko



Mongolsko



Lichtenštajnsko



Poľsko



Saudská Arábia



Nový Zéland



Turkménsko



Libanon



Argentína



Maďarsko



Ukrajina



Rakúsko



Rusko

Maďarsko, Nový Zéland, Rusko, Libanon, Turkménsko, Mongolsko, Nepál, Argentína, Poľsko, Švajčiarsko, Saudská Arábia, Lichtenštajnsko, Katar, Srí Lanka, Rakúsko, Ukrajina.

4. Aj Európska únia má svoju vlajku, aj keď to je zoskupenie štátov. Ak ju správne nakreslíš, máš + **5bodov**.

