



Základná škola, Trebišovská 10, Košice

vyhlasuje pokračovanie v súťaži

GEO v malíčku

9. kolo – otázky a odpovede:

1. Tak ako vždy, začiatok bude patriť Košiciam:

a) Vymenuj všetky družobné mestá Košíc, uveďte aj štát, v ktorom sa nachádzajú.

10 bodov Nemecko Wuppertal, Fínsko Raahe, Poľsko Rzeszow, USA – Alabama Mobile, Nemecko Cottbus, Taliansko Verona, Ukrajina Užhorod, Ruská federácia Sankt Peterburg, Maďarsko Miškolc, Maďarsko Budapešť, Maďarsko Abaújszántó, Turecko Bursa, Bulharsko Plovdiv, Srbská republika Niš, Česká republika Ostrava, Slovenská republika Vysoké Tatry, Poľsko Katowice, Poľsko Krosno, Čínska ľudová republika Wuhan, Vietnamská socialistická republika Da Nang, Bieloruská republika Vitebsk, Vietnamská socialistická republika Hočiminovo mesto

b) Zisti, v ktorom okrese a v ktorej mestskej časti sa nachádzajú ulice s názvami družobných- partnerských miest

Okres Košice II- sídlisko KVP- Wuppertálska, Cottbuská,

Okres Košice IV- Juh- Miškovecká, Ostravská, Užhorodská,


Okres Košice I - Sídlisko Ťahanovce- Budapeštianska,

Okres Košice III – sídlisko Dargovských hrdinov- Krosnianska ulica,

2. V tejto otázke sa trochu prejdeme po svete.

a) V ktorom s nami susediacom štáte, v ktorom kraji a na území ktorých okresov a v ktorom pohorí sa nachádza tento skalný útar pod názvom „Milenci“ .

Pomôcka: národná prírodná rezervácia sa nachádza v pieskovcovom skalnom komplexe.



1bod Česko, Královohradecký kraj, okres Trutnov a Náchod, Adršpašsko-teplické skály, v Broumovské vrchovine.

Kde pramení najdlhšia rieka tohto štátu? , samozrejme aj jej názov a dĺžku **1bod** Je to Vltava, 430 km dlhá a pramení na Šumave

Ako sa volá najstarší most postavený na tejto rieke a v ktorom meste sa nachádza? **1bod** Je to Karlov most v Prahe



Je tento štát sebestačný v ťažbe ropy, čierneho uhlia a uránu? **1bod** nie, áno, áno

b) Opäť to bude náš sused. Okrem nás hraničí ešte so 6 štátmi. Takto vyzerá ich najvyšší vrch



Hoverta.

Ako sa volá štát , na území ktorého je tento vrch, v ktorom pohorí sa nachádza a aká je jeho nadmorská výška? **1bod**
Ukrajina, Karpaty, 2 061 m nad morom

Ako sa volá národný park v tomto štáte, ktorý sa rozprestiera okolo najväčšieho kaňonu? **1bod** **Národný prírodný park Kaňon Dnestra**



Aký typ krajiny ochraňuje? **1bod** **ukrajinskú lesostepnú krajinu**

Akú spoločnú pamiatku UNESCO máme? **1bod** **Karpatské bukové pralesy- NP Poloniny**

c) Tento štát preslávili špeciálne výrobky.

Firma Victorinox, je hlavným výrobcom nožíkov v ktorom štáte? **.Švajčiarsko. 1bod,**



bola založená už v roku 1884 a sídli v meste Ibach,

kde je postavená aj veľkokapacitná továreň na všetky súčiastky, z ktorých sú vreckové nožíky vyrábané. Teda, takmer všetky. Jedinou časťou tradičného nožíka, ktorá nie je vyrábaná priamo v krajine, je vývrtka. Aj keď sú obyvatelia tohto štátu veľmi zruční a práca s kovmi im výraznejšie problémy nerobí, výroba kvalitnej vývrtky je príliš zložitá, a tak si ju nechávajú na zákazku vyrobiť v inej ďalekej krajine. V ktorej? **1bod**




Japonsku.

d) Kvalitná čokoláda s typickým trojuholníkovým tvarom a lahodnými kúskami medovo-mandľového nugátu rozplývajúca sa na jazyku.



Kto túto čokoládovú pochúťku Toblerone začal v roku 1908 vyrábať? **Theoder Tobler s Emilom Baumannom** **1bod** v ktorom meste? **1bod Bern**. Kde sa aktuálne výhradne všetka jeho produkcia sústreďuje? **1bod** do **švajčiarskeho mesta Bern, čiže miesta, kde tradícia Toblerone začala**. Je to pravda, že ročná produkcia obľúbenej sladkosti je taká masívna, že továreň, kde je Toblerone vyrábané, vychrlí každý jeden rok a

neuveriteľných 7 miliárd jednotlivých lámateľných kúskov? **1bod áno**




e) Približne koľko jazier sa v tomto štáte nachádza? **7 000** , akého sú pôvodu? **Ľadovcového** a ktoré je najväčšie? **Ženevské jazero** **1bod**



3. Kto je to, čo je to?

a) Kto bol Móhandás Karamčand Gándhí? Bol hinduista alebo moslim? Využíval na boj za samostatnosť terorizmus alebo formu politickej hladovky?



1bod Najvýznamnejšia postava indického národnooslobodeneckého hnutia proti britským kolonizátorom. Bol hinduista, formu politickej hladovky.

b) Má Irbis vrchovský dve, štyri alebo šesť nôh? Má srst' alebo perie? Jeho prirodzený výskyt je v strednej Ázii alebo v strednej Afrike, alebo strednej Amerike? **1bod**



Leopard snežný alebo Irbis Jeho prirodzený výskyt je v strednej Ázii, má štyri nohy a srst'

c) Ako sa volá toto zviera so zvláštnym nosom, ktoré už vymiera? Je pravda, že v zime jeho srst' obelie? Na území ktorých dvoch štátov sa ešte prirodzene vyskytuje?



1bod Sajga tatárska, áno, Rusko a Kazachstan

d) Čo je to Kuro šio? Čo je jeho opakom? **1bod** Je to teplý morský prúd v severozápadnej časti Tichého oceána. Studený prúd Oja šio

e) Čo je Kurkuma? Je aj zelenej farby? **1bod** Je to korenie a používa sa ako žltor oranžové farbivo, nie


f) Je Hľuzovka čierna had, huba alebo ryba? Ako ju hľadajú? Je to kulinárska pochúťka? **1bod** Je to huba, hľadajú ju pod zemou pomocou psov alebo cvičených



prasiatok, áno

g) Kto sú Algonkinovia? Kde žili v minulosti a kde teraz? **1bod** sú veľká skupina severoamerických indiánskych kmeňov. Pôvodne obývali v subarktickú oblasť od

atlantického pobrežia po Skalnaté vrchy, dnes žijú v rôznych rezerváciách v USA a Kanade, najmä pri Veľkých kanadských jazerách.




ich rituálne tance

4. V tejto otázke sa pozrieme na naše ľudové zvyky a tradície.

a) Doplň pranostiku na svätého Ondreja: Na Ondreja ide orať len **1bod** krivý gazda. Kedy je v kalendári meno Ondrej a kto bol svätý Ondrej? **1bod** 30.novembra, Sv. Ondrej bol rybárom. Neskôr sa stal prvým učeníkom Ježiša Krista. Ondrej bol vždy medzi prvými 4 apoštolmi uvádzanými v evanjeliách a bol zmieňovaný spravidla v súvislosti so zázračným nasýtením 5 tisíc ľudí. Na území ktorých dnešných štátov



pôsobil? **1bod** Ruska, Bulharska, Rumunsko, či Grécko



b) Tento kostol v Košiciach je zasvätený sv. Gorazdovi.



Kto to bol? **1bod** bol veľkomoravský biskup a literát, bol žiakom sv. Cyrila a Metoda Je to pravda, že po sv. Gorazdovi je pomenovaný vrch v Antarktíde s nadmorskou výškou 650 m? **1bod** áno



c) Kto nosil lajblík? **1bod** aj žena a bol súčasťou kroja



aj muž

d) Ako sa nazýva svadobný zvyk, ktorý je formálnym prejavom zo strany ženícha, ktorým osloví rodinu nevesty so žiadosťou o jej ruku. Koná sa v úvodných fázach svadobného dňa.? **Odpytovanie alebo odobierka nevesty**, **1bod** Čo hovorí táto pranostika? Ak prší, prší novomanželom **1bod** šťastie a peniaze. Kedy sa robilo čepčenie a čo to znamenalo? **1bod** nastáva o polnoci svadobného večera, nahradil sa dievčenský veniec čepcom dospelej vydatej ženy



Po čepčení nasleduje typický zvyk pre Slovensko - redový tanec. Kto s kým tancuje?
1bod Mladá pani s rodinou a hosťami




e) Toto je slovenský syr Karička. Kde sa vyrába od roku 1976 a podľa čoho ho pomenovali? **1bod** V Michalovciach, dnes závod Bel Slovensko. Názov



dal zemľínsky Pudový tanec dievčat v kruhu

5. Kde nájdem?

a) Kde nájdem, v ktorom štáte a meste, „ mesto tisícich okien“? **1bod**



V Albánsku, mesto Berát

b) Kde nájdem najľudnatejšie mesto na svete? **1bod**



Tokio v Japonsku

c) Kde nájdem mesto s najvyššou kvalitou života na svete a zároveň mesto zákazov?

Pokutu môžete dostať za odhadzovanie cigaretových ohorkov, žuvačiek, ba dokonca aj vtedy, keď pôjdete cez cestu mimo vyznačeného prechodu **1bod**



Singapur v Ázii


d) Kde nájdem mesto “ siedmich veží a marcipánu“ **1bod** v Nemecku, mesto Lübeck



e) Kde nájdem rozprávkovú dedinku Habakuky? **1bod** Na Donovaloch



f) Kde v Čechách nájdem Westernové mestečko? **1bod** Boskovice





g) Kde nájdem
v Portugalsku

najzápadnejší bod Európy? **1bod**

Tak, to je deviata bodová päťdesiatka!

Ak nevynecháte žiadnu časť úlohy, môžete získať spolu až **50 bodov**.

Kto chce byť lepší, vyrieši všetko rýchlo a získa bonus!

Termíny:

Do 16. mája 2021 + **10 bodov**

Do 20. mája 2021 + **5 bodov**

Posledný termín: **4. jún 2021**

KOMU?

Osobne p. učiteľke Majorošovej alebo poslať riešenie: [cez](#) Edupage

A pozor!! Odoslaná práca bez mena a triedy bude neplatná !!!

Meno priezvisko, trieda		Počet bodov 9. kolo /rok 2021/ za jednotlivé otázky a čas									Celkové poradie
		Body za 1.- 8. kolo rok 20/21	č.1 10 b	č.2 15 b	č.3 7 b	č.4 11b	č.5 7 b	Body za čas	Spolu za 9. kolo 50b	Všetky body spolu	
Ejmy Petrová IX.A	395	9	14	7	11	7	16.5 + 0b	48	443	1.miesto	
Lenka Blizmanová VILB	366	9	13	7	11	7	4.6. +0b	47	413	2.miesto	
Miriam Lisyová VII.A	362	10	13	6	11	7	16.5. +0b	47	409	3.miesto	
Jacqueline Dolanská VI.C	348	10	14	7	10	6	30.5. +0b	48	396	4.miesto	
Katarína Zlacká IX.B	337	--	--	--	--	--	--	---	337	5.miesto	
Viktor Čečetka V.C	318	--	--	--	--	--	--	--	318	6.miesto	
Vanessa Zajacová VI.C	312	--	--	--	--	--	--	--	312	7.miesto	
Kristian Skyba VILB	312	--	--	--	--	--	--	--	312	7.miesto	
Michaela Kožušeková VIII.A	305	--	--	--	--	--	--	--	305	8.miesto	
Mia Spišáková VILB	284	--	--	--	--	--	--	--	284	9.miesto	
Soňa Staneková VI.A	274	--	--	--	--	--	--	--	274	10.miesto	
Natália Sedláková	267	--	--	--	--	--	--	--	267	11.miesto	

VII.C											
Martin											
Gonda	237	--	--	--	--	--	--	--	237	12.miesto	
VI.A											
Matej											
Buček	233	--	--	--	--	--	--	--	233	13.miesto	
VII.B											
Ela											
Benderová	232	--	--	--	--	--	--	--	232	14.miesto	
VII.C											
Maxim											
Blanár	224	--	--	--	--	--	--	--	224	15.miesto	
V.C											
Jakub											
Jaš	221	--	--	--	--	--	--	--	221	16.miesto	
VII.C											
Laura											
Vasiľov	207	--	--	--	--	--	--	--	207	17.miesto	
VII.C											
Lucia											
Jenčová	170	--	--	--	--	--	--	--	170	18.miesto	
IX.A											
Karin											
Sabolová	169	--	--	--	--	--	--	--	169	19.miesto	
VI.B											
Marianna											
Milá	164	--	--	--	--	--	--	--	164	20.miesto	
VII.B											
Alexandra											
Farkašová	157	--	--	--	--	--	--	--	157	21.miesto	
VII.A											
Alexandra											
Ruščinová	141	--	--	--	--	--	--	--	141	22.miesto	
VII.A											
Katarína											
Hricišinová	124	--	--	--	--	--	--	--	124	23.miesto	
VI.B											
Michal											
Chrena	48	10	13	7	11	7	15.5. /+0b	48	96	24.miesto	
V.C											
Paula											
Müller	92	--	--	--	--	--	--	--	92	25.miesto	

VI.A										
Mária Eštvánová	90	--	--	--	--	--	--	--	90	26.miesto
IX.A Karin Schmidtová	86	--	--	--	--	--	--	--	86	27.miesto
IX.B Michal Šipoš	84	--	--	--	--	--	--	--	84	28.miesto
IX.A Róbert Pástor	83	--	--	--	--	--	--	--	83	29.miesto
VII.C Viana Ivanová	78	--	--	--	--	--	--	--	78	30.miesto
VII.B Alexandra Šípošová	74	--	--	--	--	--	--	--	74	31.miesto
VII.A Tomáš Takács	47	--	--	--	--	--	--	--	47	32.miesto
VIII.A Matúš Prochyra	47	--	--	--	--	--	--	--	47	32.miesto
VI.A Natália Kočanová	47	--	--	--	--	--	--	--	47	32.miesto
VI.B Iveta Kosálová	46	--	--	--	--	--	--	--	46	33.miesto
V.C Miriam Mittelman	44	--	--	--	--	--	--	--	44	34.miesto
VI.C Richard Hereta	44	--	--	--	--	--	--	--	44	34.miesto
IX.A Filip Mittelman	44	--	--	--	--	--	--	--	44	34.miesto
IX.A Petra Bondrová	44	--	--	--	--	--	--	--	44	34.miesto

IX.B										
Amina Husseinová VII.A	43	--	--	--	--	--	--	--	43	35.miesto
Lara Lucskai VII.A	41	--	--	--	--	--	--	--	41	36.miesto
Hannah Hudačinová VI.C	41	--	--	--	--	--	--	--	41	36.miesto
Nina Lišková VI.A	31	--	--	--	--	--	--	--	31	37.miesto

BLAHOŽELÁM:

Vzácnu jednotku získavajú: Ejmy Petrová, Lenka Blizmanová, Miriam Lisová, ,
Michal Chrena, Jacqueline Dolanská

Veľa zdravia a šťastia v ďalšom kole!